

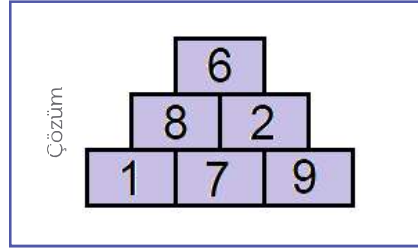
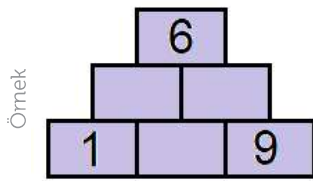
# PİRAMİT

## KADEME 1:

Boş kutulara 1 ile 9 arasındaki rakamlardan uygun olanları öyle yerleştiriniz ki, her kutudaki rakam, kendi altında bulunan iki kutudaki rakamların toplamına ya da farkına eşit olsun.

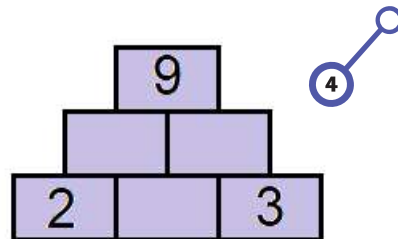
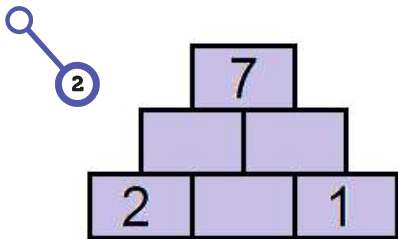
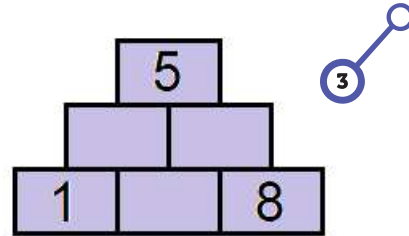
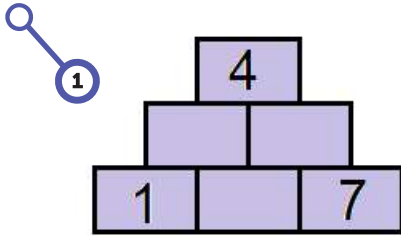
-Satırlarda rakam tekrar olmayacak.

-Satırlarda yan yana bulunan rakamlar ardışık olmayacak.



## KADEME 1

### Sorular:

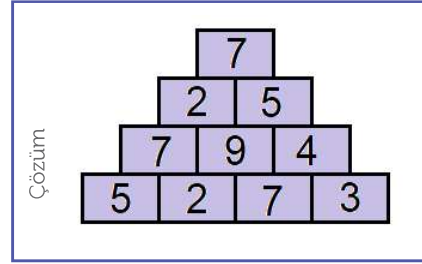
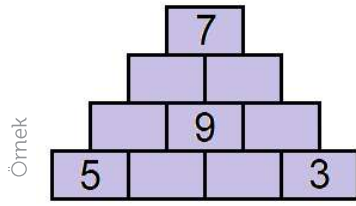


## PİRAMİT KADEME 2:

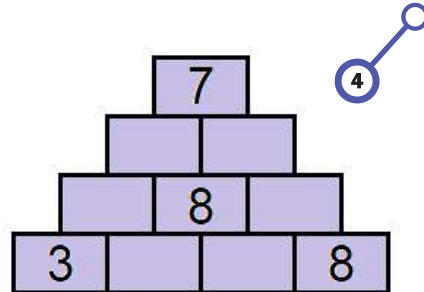
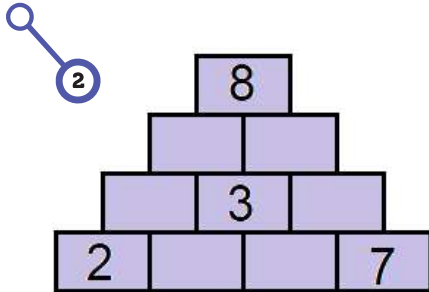
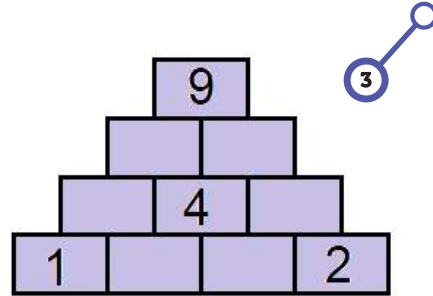
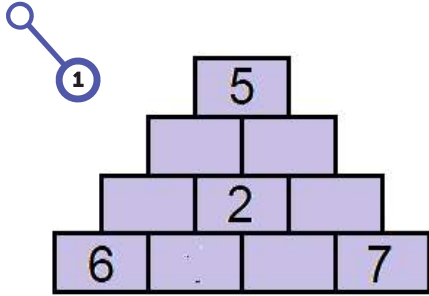
Boş kutulara 1 ile 9 arasındaki rakamlardan uygun olanları öyle yerleştiriniz ki, her kutudaki rakam, kendi altında bulunan iki kutudaki rakamların toplamına ya da farkına eşit olsun.

-Satırlarda rakam tekrar olmayacak.

-Satırlarda yan yana bulunan rakamlar ardışık olmayacak.



### KADEME 2 Sorular:

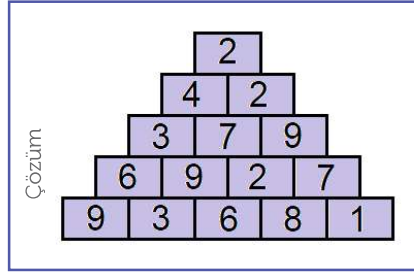
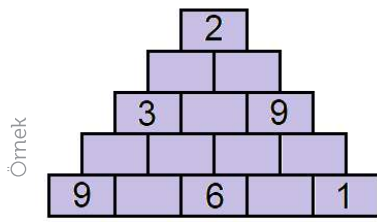


## PİRAMİT KADEME 3:

Boş kutulara 1 ile 9 arasındaki rakamlardan uygun olanları öyle yerleştiriniz ki, her kutudaki rakam, kendi altında bulunan iki kutudaki rakamların toplamına ya da farkına eşit olsun.

-Satırlarda rakam tekrar olmayacak.

-Satırlarda yan yana bulunan rakamlar ardışık olmayacak.



### KADEME 3 Sorular:

