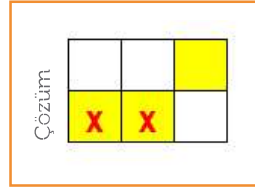
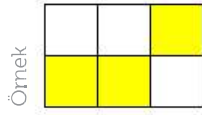


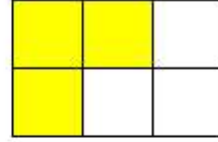
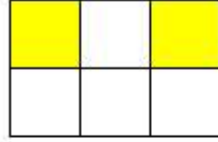
**LAMBALAR****KADEME 1:**

Sönük lambaların bulunduğu kareler beyaz, yanan lambaların bulunduğu kareler sarı renkle gösterilmiştir. Hangi lambaya dokunursanız, kendisi ve komşu (yatay ve dikey) karelerdeki lambalar durum değiştiriyor. Yani sönükse yanıyor, yanıkse sönüyor.

En az sayıda lambaya dokunarak tüm lambaları yakınız.

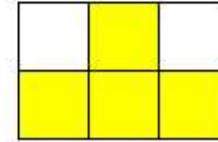
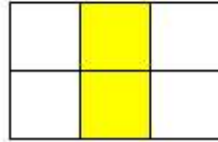
**KADEME 1****Sorular:**

1



3

2

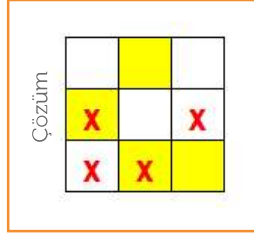
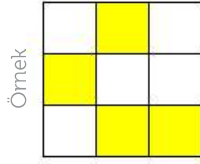


4

## LAMBALAR KADEME 2:

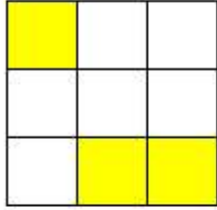
Sönük lambaların bulunduğu kareler beyaz, yanan lambaların bulunduğu kareler sarı renkle gösterilmiştir. Hangi lambaya dokunursanız, kendisi ve komşu (yatay ve dikey) karelerdeki lambalar durum değiştiriyor. Yani sönükse yanıyor, yanıkse sönüyor.

En az sayıda lambaya dokunarak tüm lambaları yakınız.

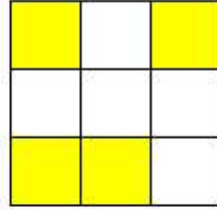


### KADEME 2 Sorular:

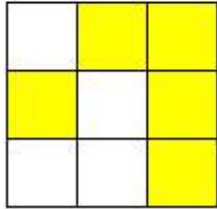
1



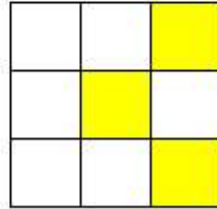
3



2



4



## LAMBALAR KADEME 3:

Sönük lambaların bulunduğu kareler beyaz, yanan lambaların bulunduğu kareler sarı renkle gösterilmiştir. Hangi lambaya dokunursanız, kendisi ve komşu (yatay ve düşey) karelerdeki lambalar durum değiştiriyor. Yani sönükse yanıyor, yanıkça sönüyor.

En az sayıda lambaya dokunarak tüm lambaları yakınız.

Örnek

■	■	■	■
■	■	■	■
■	■	■	■
■	■	■	■

Çözüm

■	■	X	■
■	X	X	■
■	■	■	X
■	X	■	■

### KADEME 3 Sorular:

1

■	■	■	■
■	■	■	■
■	■	■	■
■	■	■	■

3

■	■	■	■
■	■	■	■
■	■	■	■
■	■	■	■

2

■	■	■	■
■	■	■	■
■	■	■	■
■	■	■	■

4

■	■	■	■
■	■	■	■
■	■	■	■
■	■	■	■