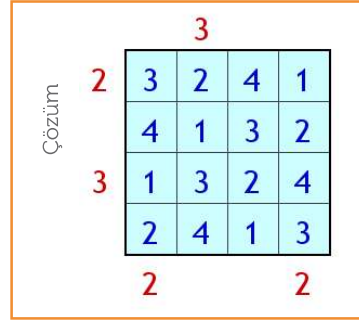
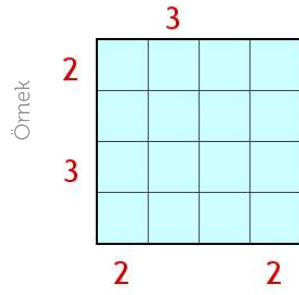
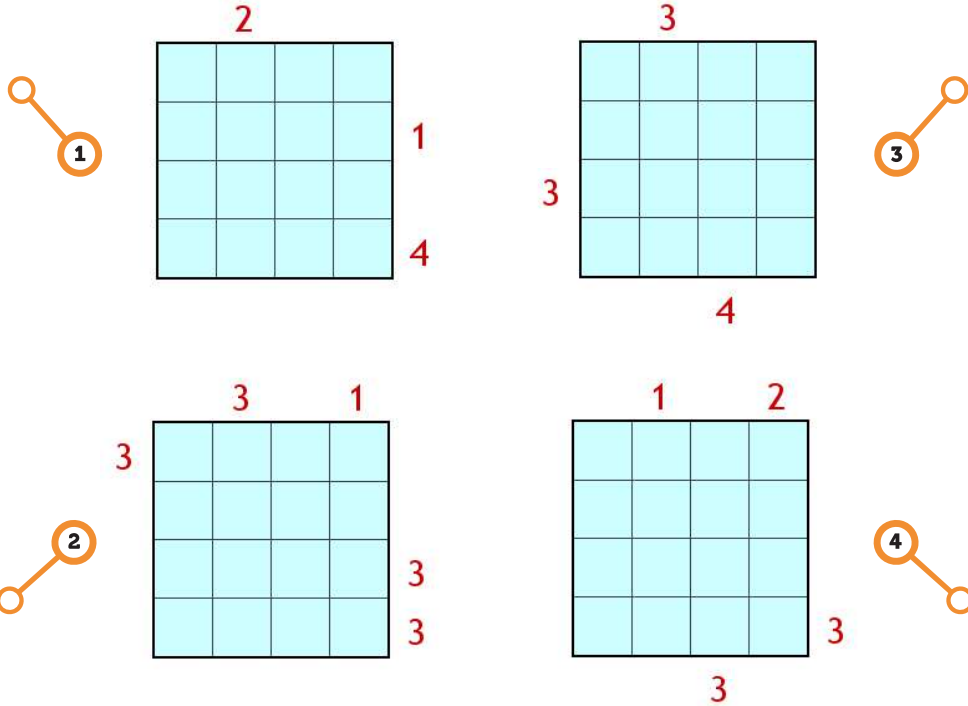


APARTMANLAR**KADEME 2:**

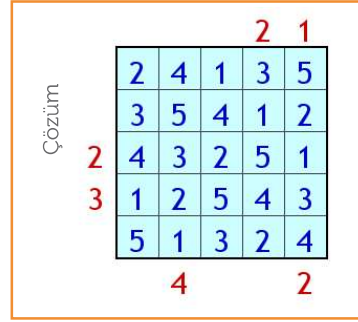
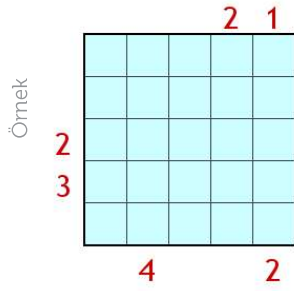
Her satır ve her sütunda yükseklikleri 1'den 4'e kadar olan 4 apartman vardır. Tablonun dışındaki sayılar, o yönden bakıldığında görülen apartman sayısını belirttiğine ve hiçbir satır veya sütunda aynı yüksekliğe sahip iki apartman olmadığına göre bütün apartmanların yüksekliklerini bulunuz.

**KADEME 2****Sorular:**

APARTMANLAR

KADEME 3:

Her satır ve her sütunda yükseklikleri 1'den 5'e kadar olan 5 apartman vardır. Tablonun dışındaki sayılar, o yönden bakıldığında görülen apartman sayısını belirttiğine ve hiçbir satır veya sütunda aynı yüksekliğe sahip iki apartman olmadığına göre bütün apartmanların yüksekliklerini bulunuz.



KADEME 3

Sorular:

